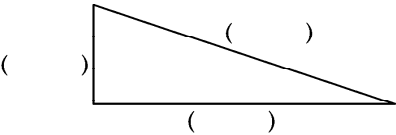


第四单元《测量》检测题(A卷)(北师版)

(时间:60分钟 总分:100分)

一、选一选。(8分)

1. 哪些物体的长度最接近1分米,就在它下面的()里画“√”。
- | | | |
|------|------|------|
| 1根火柴 | 1支粉笔 | 1支毛笔 |
| () | () | () |
2. 哪个物体的厚度最接近1毫米,就在它下面的()里面“√”。
- | | | |
|-------|-------|--------|
| 1本数学书 | 1张公交卡 | 1本新华字典 |
| () | () | () |
3. 哪个物体的厚度最接近1厘米,就在它下面的()里面“√”。
- | | | |
|------|--------|-------|
| 一分硬币 | 10本数学书 | 1本数学书 |
| () | () | () |
4. 估一估,再量一量,下面图形的那条边最长,就在它旁边的()里面“√”。



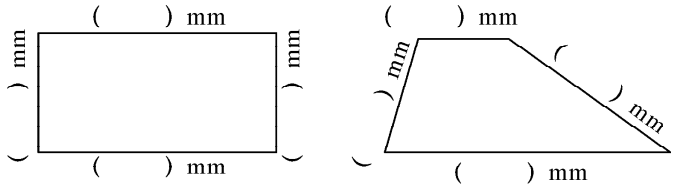
二、填一填。(34分)

1. 在○里填上“>”、“<”或“=”。(12分)
- | | | |
|---------|-----------|----------|
| 1分米○8毫米 | 3米○30分米 | 40毫米○4分米 |
| 9毫米○1厘米 | 1000米○1千米 | 59分米○6米 |
2. 在()里填上合适的单位。(10分)



3. 在()里填上合适的数。(12分)
- | | |
|--------------|---------------|
| 9km = ()m | 5000m = ()km |
| 60mm = ()cm | 7cm = ()mm |
| 2dm = ()cm | 800cm = ()m |

三、量一量。(8分)




四、画线段图。(8分)



- (1) 40mm
- (2) 10cm


五、连一连。(小动物找家)(10分)



六、按要求排一排。(16分)

- 1. 5厘米 5米 50米 50厘米(按从长到短排列)
- 2. 700米 7分米 7厘米 7千米(按从短到长排列)

七、估一估,填一填。(6分)



- 1. 笑笑家离学校有多远? 在正确的答案下面画“√”。

1500 米	900 米	2 千米

- 2. 姐姐家离学校有多远? 在你认为正确的下面画“○”。

1090 米	1800 米	1500 米

八、算一算。(10分)

- 1. 三角形三边一共长多少分米?
- 2. 长边比短边长多少厘米?

